

1- a) Derive an expression the admittance in a parallel combination of R and L circuit?

(b) In a series circuit of $R=20$ ohm and $L=0.06$ henry, the current lags the voltage by 80° . Determine ω ?

2-a) In series RLC circuit at resonance , calculate the average power and the quality factor of the circuit .

(b) A series RC circuit has $R=10$ ohm , $C=5$ mf and an applied voltage $V = 150 \cos 1000t$. Find the complex impedance Z of this circuit

3- تكلم باستفاضة عن (مستعينا بالرسم) :

أ- المثير الكهربى وخواصه

ب- بقاء الاستقرار وضبط البيئة الداخلية وخواصه

ت- الاكترودات وأنواعها

ث- انتقال المواد بالانتشار البسيط

4- اشرح بالتفصيل مستعينا بالرسم ما تعرفه عن:

أ- التخطيط الكهربى للقلب ECG

ب- النشاط الكهربى والتخطيط الكهربى للمخ EEG

الاجابة

3- أ- المثير الكهربى وخواصه

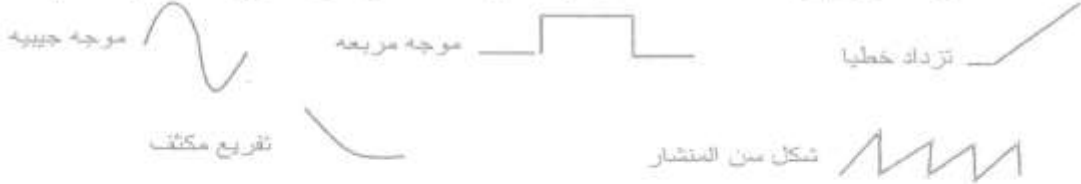
10-2 : المثير الكهربى وخواصه:

Characteristics of an electric stimulus

المثير أياً كان نوعه يستخدم لاثارة الخلايا والانسجة الحية. وخصائصه تعتمد على خاصية الاثارة Excitability لهذه الانسجة والتي تعرف بانها القدرة على الاثارة. ولهذا فان بعض الانسجة يكون لها قدرة كبيرة على الاثارة وهذا يعنى انه يمكن إثارتها بقدر قليل من شدة المثير المناسب اما اذا كانت خاصية الاثارة قليلة فان النسيج يلزمه قدر كبير من شدة المثير . ولهذا فإن شدة وخواص المثير يمكن اخذها كمقياس لخاصية الاثارة.

10-2-1 خواص المثير الكهربى :

المثير الكهربى له عدة اشكال بعضها كما هو موضح بشكل (10-1).



شكل (10-1) بعض اشكال المثير الكهربى

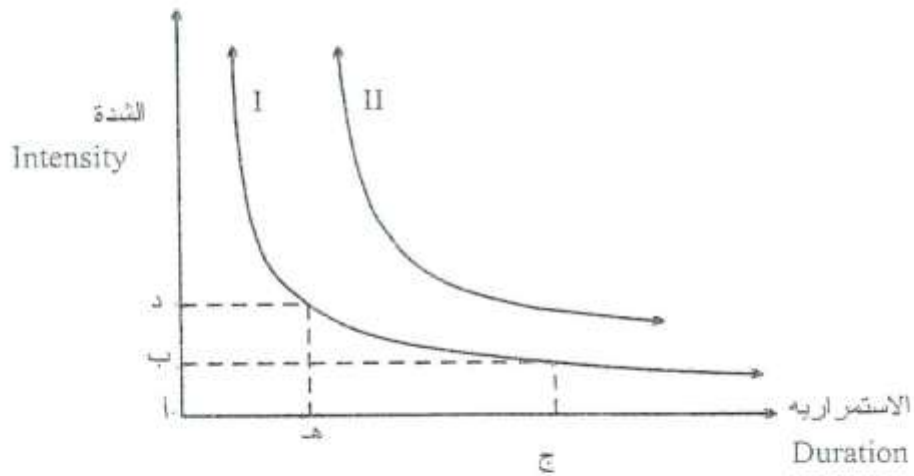
من هذه الأشكال نرى أن المثير الكهربى يتميز بثلاث خصائص هي :

أ- الشدة أو السعة Intensity or amplitude

ب- الإستمرارية Duration

ج- الانحدار Stepness والذي يعرف بأنه زمن وصول نبضة المثير الى نهايتها العظمى.

وقد وجد أن أنسب شكل للنبضة الكهربائية هو الموجه أو النبضة المربعة Square pulse والتي يمكن عن طريقها دراسة تأثير الشدة والاستمرارية على خاصية الاثارة للخلايا الحية وذلك لأن انحدارها كبير جدًا و يصل الى نهايته العظمى. الشكل (10-2) يمثل العلاقة بين الشدة والاستمرارية .



شكل (10-2) العلاقة بين شدة المثير الكهربى واستمراريته لعصلة :
I طبيعية وأخرى. II مريضة .

1-5 بقاء الاستقرار وضبط البيئة الداخلية

(ostasis and control in internal environment)

بقاء الاستقرار (Homeostasis) هو حالة فسيولوجية تعنى الحفاظ على الحالة الاستا

واستقرار البيئة الداخلية ومكوناتها اللازمة للعمليات الحيوية فى الجسم .

✳ ويتضح الدور الفسيولوجى لعملية بقاء الاستقرار فى النقاط التالية :

1- توجد بالجسم عدة ميكينات دائمة تعمل فى جميع الأوقات للحفاظ على استقرار وثبات

الداخلية ، من حيث : الحجم ، درجة الحرارة ، درجة الحموضة (pH) الخاصية الأز

مقدار الغازات والأيونات والجلوكوز ، و... إلخ .

2- لا تستطيع خاصية أو ميكانيكية بقاء الاستقرار أن تمنع أى تغير فى البيئة الداخلية ،

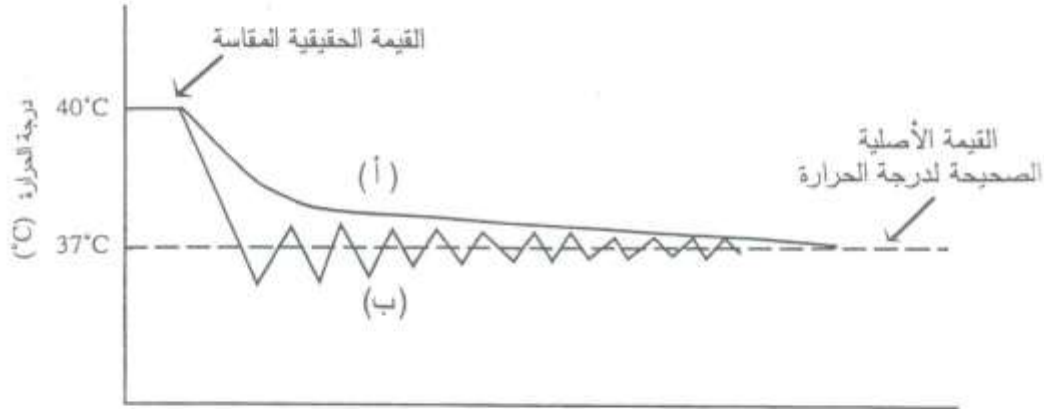
تستطيع أن تقلل من مقدار هذا التغير ، فعلى سبيل المثال ، إذا حدث تغير فى درجة ،

الجسم فى شكل قيم مختلفة حول القيمة الأصلية الطبيعية (37°C) . فإن وجود هذه الخاصية يعمل على التقليل من مقدار التغير ؛ ليصبح فى أضيق مدى ممكن (شكل 4 - 1) .

3- للحفاظ على بقاء استقرار وثبات البيئة الداخلية يعتمد الجسم على طريقتين أساسيتين ، هما :

أ- عمل امتزاج للمائع الخارجى للخلية ببعضه البعض فى الجسم كله ، ثم يعيد توزيعه من جديد على الجسم مما يقلل من مقدار التغير الحادث .

ب- الاستعانة بأجهزة الجسم المختلفة لاستخدام ميكينات خاصة ؛ للإبقاء على الاستقرار بالبيئة الداخلية .



شكل (4 - 1) :

تغير درجة حرارة الجسم ودور عمليات بقاء الاستقرار فى ضبط درجة الحرارة حتى تعود إلى القيمة الصحيحة (أ) ، (ب) يمثلان الصورة المحتملة لشكل التغير فى درجة الحرارة، أثناء عمليات بقاء الاستقرار.

دور أجهزة الجسم فى الحفاظ على بقاء استقرار البيئة الداخلية:

يتطلب الحفاظ على بقاء الاستقرار بالبيئة الداخلية وجود :

1 أجهزة تنظيمية (Regulatory System) : ويمثلها الجهاز العصبى NS بالجسم ، وهى تشمل:

- أ- الجهاز العصبى المركزى (CNS) ويشمل المخ والحبل الشوكى ،
- ب- الجهاز الحسى (Sensory System) وأجهزة إفراز الهرمونات والأجهزة المسؤولة عن التكاثر.
- ج- الجهاز الذاتى Autonomic System والذى يعمل ذاتياً ، ويتحكم فى بعض الوظائف المهمة فى جسم مثل حركة القلب والقناة الهضمية .

2 أجهزة ضبط (Control System) وهى تشمل الأعضاء ، مثل : الكبد والكلى والريتين وغيرها من الأجهزة والعشرات ، بل مئات الآلاف من أنظمة الضبط على المستوى الخلوى (النظام الجينى فى كل خلية) ، والذى يعمل على ضبط العمل بها .

3-1-1 خصائص ضبط النظام البيوفيزيائي للبيئة الداخلية:

جميع أجهزة ضبط البيئة الداخلية للجسم التي سبق ذكرها ما هي إلا عدد قليل من مئات أو آلاف أجهزة النظام البيوفيزيائي للجسم، وهذه الأجهزة جميعها تتميز بخواص عامة، تتحكم في عملها للحفاظ على الاستقرار الداخلي بالجسم .

فعلى سبيل المثال ، لكي تعمل أجهزة الضبط بالجسم ، لابد أن تتبع الخطوات التالية (كما في شكل

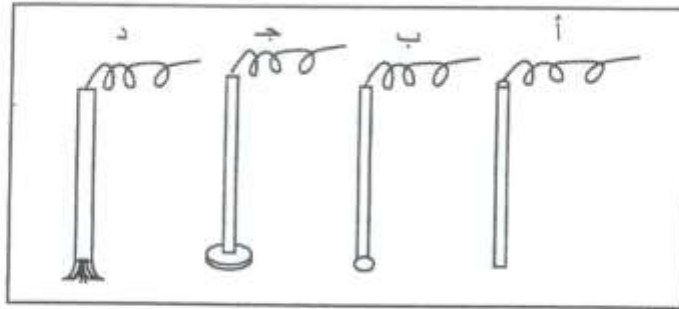
3-1-1) على الترتيب :

- 1- حدوث تغير في البيئة الداخلية عن طريق مؤثر خارجي أو داخلي بالجسم.
- 2- مستقبلات تشعر بهذا التغير ، وهي وسائل الحس المختلفة بالجسم .
- 3- مراكز تنظيمية توجه وتصدر التعليمات لأعضاء الضبط بالجسم لمواجهة التغير الحادث .
- 4- أجهزة ضبط تقوم بتعديل وتصحيح المتغير ومحاولة الوصول به إلى قيمة تقترب من قيمته الطبيعية الصحيحة بالجسم، ثم تقوم بإرسال المتغير بعد التصحيح إلى المستقبلات من جديد؛ لكي تقوم بمضاهاته بالقيمة الطبيعية الصحيحة ؛ أي إن أجهزة الضبط بالجسم تقوم أيضاً بعمل عملية تغذية رجعية (Feedback) (شكل 7 - أ ب) ، بالاستعانة بالبيئة الداخلية واختبار المتغير بعد التصحيح.

التغذية الرجعية إذاً تعنى إعادة اختبار نتيجة تصحيح المتغير ، مع مضاهاته بالقيمة الصحيحة ، عن طريق إعادة إدخاله لأجهزة الإحساس والتنظيم والضبط بالجسم وتتصف أجهزة الضبط (Control System) بخواص مشتركة ، من أهمها: التغذية البيولوجية الرجعية (Biofeedback) ويوجد بالجسم نوعان من التغذية الرجعية : تغذية رجعية سالبة ، وتغذية رجعية موجبة .

- 35 -

3-ت-الاكترودات وأنواعها



شكل (4 - 3) : الأشكال الرئيسية للإكترودات المستخدمة لأغراض مختلفة في القياسات الكهروفسيولوجية .

- أ- الشكل الأسطوانى أو الإبرى Cylindrical or needle electrode
- ب- ذو الرأس الكرية Tip-balled electrode
- ج- ذو رأس على شكل قرص Disc electrode
- د- ذو الطرف اللين من شعيرات ناعمة Wick - electrode

3- ث- انتقال المواد بالانتشار البسيط

1 - 3 انتقال المواد بالانتشار البسيط Transfer by simple diffusion

لو تخيلنا وجود سائلين مفصولين عن بعضهما بخط وهمي داخل وعاء ما ، وأن أحد هذين السائلين هو الماء والآخر يحتوى على تركيز معين وليكن C من جزيئات مادة ما ، بعد مرور فترة من الوقت فإن بعض هذه الجزيئات يأخذ فى الانتشار باتجاه السائل الآخر (الماء) .

بفرض أن كتلة الجزيئات المارة ∂m فى زمن قدره ∂t من خلال مساحة A وأن انحدار التركيز مع

المسافة $\frac{\partial C}{\partial X}$ فإن :

$$\frac{\partial m}{\partial t} = - DA \frac{\partial C}{\partial X} \quad (3 - 1)$$

وتسمى بمعادلة الانتشار أو معادلة فـك Fick's Law of Diffusion حيث D هو ثابت الانتشار

يعتمد على طبيعة المذاب وطبيعة المذيب ، ودرجة الحرارة .

وعلى سبيل المثال : نجد أن ثابت الانتشار لمادة الحبر فى الماء يختلف عنه فى سائل آخر كالبنزين.

وفى حالة وجود نوع وحيد من الجزيئات متساوية الكتلة فإن معادلة الانتشار ، يمكن التعبير عنها بدلالة عدد

الجزيئات n لتصبح :

$$\frac{\partial n}{\partial t} = - DA \frac{\partial C}{\partial X} \quad (3 - 2)$$

ويمكن وضع معادلة الانتشار فى صورة أخرى :

4- أ - التخطيط الكهربى للقلب ECG

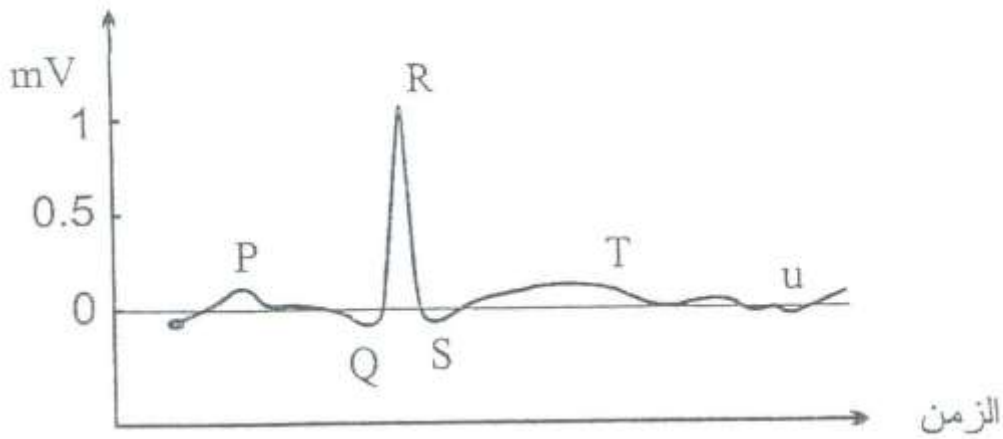
10-5-2-4 التخطيط الكهربى للقلب: Electrocardiogram

عند كل دقة من دقات القلب يحدث تغير في الجهد الكهربى داخله وينتشر بعد ذلك على سطح الجسم. وتسجيل التغير في هذا الجهد عند نقط محددة يسمى الرسم الكهربى للقلب Electrocardiogram و يرمز له دائما بالرمز ECG.

الجدير بالذكر ان التغير في الجهد على سطح القلب تم إكتشافه عام (1856) ولكن أول تسجيل حقيقى له تم بعد تطبيق استخدام الجلفانومتر السلكى String galvanometer عام 1953 على يد العالم انثوفين Einthoven. ومنذ ذلك الحين فان الرسم الكهربى للقلب يعتبر احد الأدوات المهمة في تشخيص أمراض القلب.

وجهود ECG يمكن تسجيلها بين أى نقطتين على سطح الجسم البشرى عندما تكون هاتان النقطتان بعيدتان عن بعضهما بعداً كبيراً وفى هذه الحالة فإن أقصى فرق جهد يمكن تسجيله يكون في حدود 1 ملى فولت (mV).

هذه الطريقة في تسجيل الجهد كان اول من أقترحها هو العالم الهولندي وليم انتهوفن وتسمى بالوصلات القياسية للأطراف Standard Limb leads . الفرق في الجهد بين أى وصلتين يعطى السعة النسبية والاتجاه لثنائي القطب الكهربى في المستوى الامامى Frontal plane . أي أن رسم ECG يعطى مسقط ثنائى الجهد الكهربى للنشاط الكهربى للقلب خلال دورته . شكل (10-26) يمثل الخرج من نقطة التوصيل II والذى يعطى الاحداث الكهربائية للقلب السليم خلال دورة كاملة وتتكون من الموجة P وتظهر تماماً قبل إنقباض الأذنين (أى يحدث به حالة عكس الاستقطاب depolarization) ، الموجه المركبة QRS مرتبطة وتواكب بداية إنقباض البطين اما موجة T فانها تحدث عند نهاية انقباض البطين . بالاضافة لذلك توجد الموجة U، والتي تتبع موجة T، وتظهر بعد راحة البطين Ventricular relaxation . والجدول (10-2) يعطى سعة الجهد بالملى فولت واستمرارية الموجات المكونة ECG.



شكل (10-26) مخطط ECG مسجل من الوصلة II

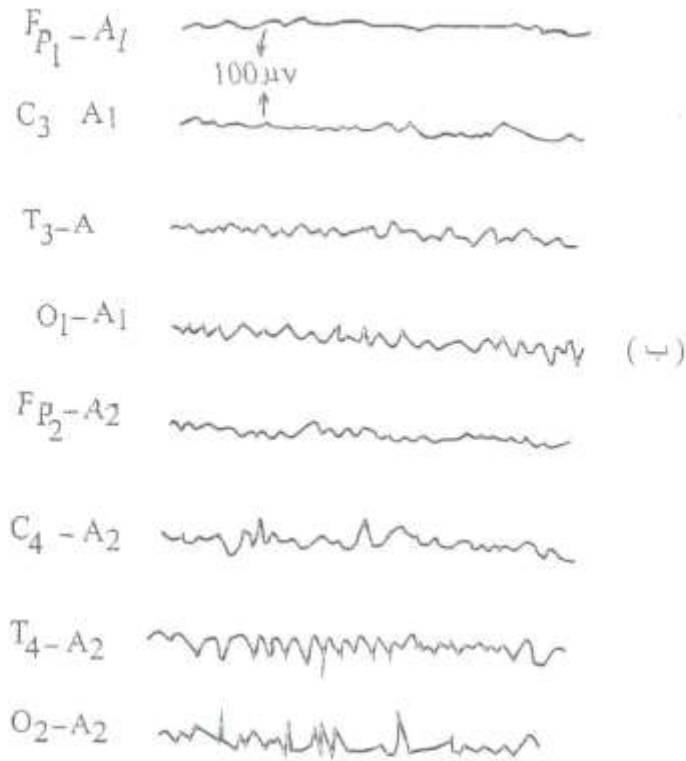
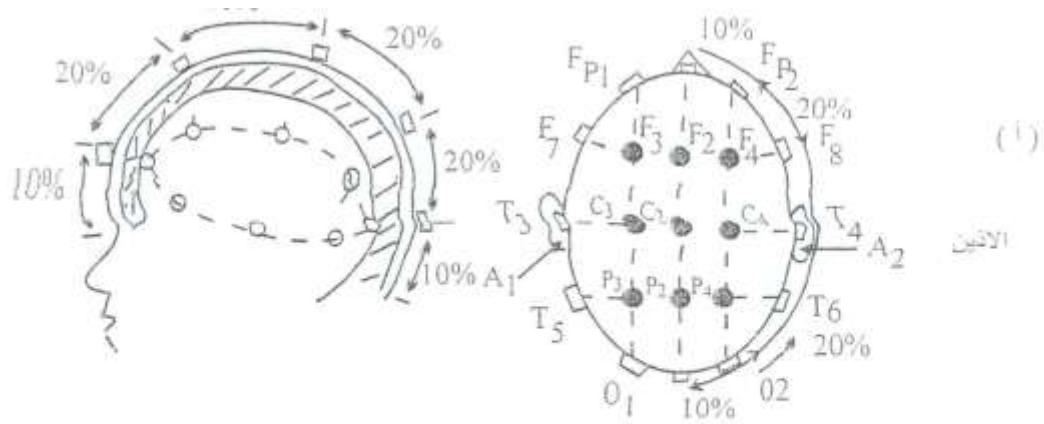
10-5-3 النشاط الكهربى والتخطيط الكهربى للمخ :

Electroencephalogram EEG

نظراً لاحتواء المخ على عدد كبير جداً من الخلايا العصبية. وتشابكها ببعضها البعض بعدد هائل من الوصلات ولأن هذه الخلايا في نشاط كهربى دائم . لذا فإن هذا النشاط يظهر على القشرة المخية ومن ثم يمكن تسجيله من على سطح الجمجمة. أول من لاحظ هذا النشاط هو العالم هانز برجر عام (1929) ومنذ ذلك الحين أجريت أبحاث كثيرة لاستخدام هذا النشاط الكهربى في التشخيص والعلاج في المجالات الطبية المختلفة وفي مجالات أخرى عديدة.

و تسجيل النشاط الكهربى للمخ عن طريق أقطاب توضع على سطح الجمجمة بنظام محدد كما هو مبين بشكل (10-31 أ ، ب) يسمى (EEG) Electroencephalogram ويستخدم لذلك جهاز له عادة من 8-16 قناة تقوم بتسجيل EEG من المناطق المختارة في نفس الوقت.

وسعة EEG تكون صغيرة جداً (في حدود 50 ميكروفولت) في حين ترددها يعتمد على حالة الشخص المسجل منه هذا النشاط . فمثلا الشخص اثناء الراحة تكون ترددات EEG معظمها في حدود 8 الى 13 هرتز وتسمى موجات الفا (α) alpha waves . وعندما يكون هذا الشخص في حالة نشاط تظهر موجات ذات ترددات اكبر من 13 هرتز وتكون هي السائدة وتسمى موجات بيتا (β) beta waves . بالإضافة لهذه الموجات هناك موجات اخرى ذات ترددات منخفضة نسبياً مثل موجات ثيتا (θ) theta وتكون في حدود 4 الى 7 هرتز وتظهر مثلاً اثناء النوم . فبدأته فر حين أن موجات دلتا (δ) delta wave ذات التردد من 0.5 الى 3 هرتز تظهر اثناء النوم العميق.



شكل (10-31) أ- الأماكن العالمية لنظام وضع الأقطاب المستخدمة في تسجيل رسم نبضات المخ EEG ب- تخطيط نبضات المخ المسجلة باستخدام أقطاب موضوع على مسافات معينة . القطب المرجعي موجود على الأذنين A2 ، A1

الجدير بالذكر ان ظهور هذه الموجات اثناء حالة النشاط تكون ذات اسباب مرضية. ولذا يستخدم تسجيل النشاط الكهربى للمخ EEG في تشخيص حالات مرضية كثيرة منها حالات الصرع epilepsy وغيرها. كما ان تسجيل EEG يساعد في التأكد من وجود أورام في المخ حيث أن النشاط الكهربى ينخفض في منطقة الورم. و يستخدم تسجيل EEG أيضا لتقنين استخدام المخدر وخاصة لمرضى القلب اثناء العمليات الجراحية بحيث تكون كمية المخدر قليلة جداً والتي تقابل اقل نشاط كهربى . ويعتبر تسجيل EEG للمرضى المنومين في الرعاية المركزة، ICU، هام جداً وخاصة عند إثبات وفاة المخ والتي تعنى إختفاء النشاط الكهربى لخلاياه ومن ثم وفاة المريض.

بجانب تسجيل النشاط الكهربى للمخ يمكن تسجيل موجات من المخ تسمى الجهد المُستدعى Evoked potential يحدث ذلك اذا تعرضت الاعضاء المختلفة الى اثاره خارجية . فمثلا يمكن تسجيل هذا الجهد لمنطقة الابصار في المخ من على سطح الجمجمة وذلك عند تعرض العين لومضات من الضوء ذو شدة مناسبة كما هو مبين بشكل (10-32) . ولهذا فان تسجيل الجهد المستدعى يستخدم في تشخيص عمل المناطق الحسيّة والحركية في المخ وبالتالي دراسة عمل هذه الحواس والأعضاء.



شكل (10-32) الجهد المستدعى نتيجة المثير الضوئى